

Skolas pilns nosaukums	
Klase	
Vārds, Uzvārds	
Datums	

TEV SVARĪGI ZINĀT! Šis darbs ir tikai TAVU šī brīža zināšanu pārbaude, nesatraucies, ja kaut ko esi piemirsis. To apgūsi vēlāk. Lai Tev veicas!

TEV VAJADZĒS – labi nospicētu zīmuli, zīmāju spicējamo un dzēšgumiju.

ATCĒRIES! Atbildes (notis) raksti saprotamas un glītas.

1.LĪMENIS: TU TO ZINI!

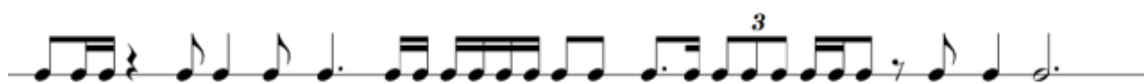
1. uzdevums

RAKSTI	Pieraksti uz kuras pakāpes atrodas katrs elements!	Laiks: 5 minūtes Punktu skaits: 10
--------	----------------------------------------------------	---------------------------------------

Tonika	I	pm53 – (dab. maž.)	D7	
s53		D64		S64
pm7 (harm.min)		pmVII7		pl4 (dab. maž.)
T64		D65		

2. uzdevums

APDOMĀ un RAKSTI	Nosaki taktmēru, sadali piemēru 4 pilnās taktīs!	Laiks: 5 minūtes Punktu skaits: 5
------------------	--------------------------------------------------	--------------------------------------



3.uzdevums


RAKSTI	Raksti dotos elementus ar atrisinājumu norādītājās tonalitātēs!	Laiks: 10 minūtes Punktu skaits: 15
--------	-----------------------------------------------------------------	----------------------------------------



Kopā punkti: 1.LĪMENIS	
---------------------------	--

2. LĪMENIS: TU NOTEIKTI TO VARI, TAS IR VIENKĀRŠĪ!



4.uzdevums

 RADI PATS	PIRMS SĀC- RŪPĪGI IZLASI!	Laiks: 15 minūtes Punktu skaits:15
<p>Izveido melodiju ievērojot dotās norādes:</p> <ol style="list-style-type: none">1) Sadali taktis kvadrātiskas uzbūves periodu tā, lai katrs teikums ir savā linijkopā;2) Pieraksti fa minora atslēgas zīmes pie nošu atslēgas;3) Izvēlies un uzraksti taksmēru;4) Izveido ritma zīmējumu ar Tev zināmajām ritma grupām, iekļaujot ne mazāk kā 4 dažādas ritma grupas (punktētu ritmu, sinkopi, trioli u.c.);5) Veido savu melodiju fa harmoniskajā minorā! Melodijas veids – vijņveida melodija.<ul style="list-style-type: none">- sāk ar noturīgas t5 augšupejošu lēcieni;- 1.teikumā iekļauj pm5 vai pl4 lēcieni (us),- 2. teikumā izveido vienu sekvences motīvu,- noslēdz melodiju ar toniku.6) Pievieno sacerētajai melodijai tempa vai rakstura apzīmējumu itāliešu valodā.7) Saliec dinamikas zīmes!		

Kopā punkti: 2. LĪMENIS	
----------------------------	--

3. LĪMENIS: TU TO NOTEIKTI ZINI!

5.uzdevums

 RAKSTI  un NOKLAUSIES	Izpildi divus uzdevuma soļus!	Laiks: 10 minūtes Punktu skaits: 19
---------------------------------------------------------------------------------------------------------------------------------------------------------------------------------------------	-------------------------------	----------------------------------------



1. solis Aizpildi tabulas tukšās ailes!

Skaņdarba nosaukums	Komponists	Žanrs
„Aīda”		Opera
„Mesija”	Georgs Frīdrihs Hendelis	
	Edvards Grīgs	Svīta orķestrim
„Mēnesnīcas sonāte”		Sonāte klavierēm
	Volfgang Amadejs Mocarts	Serenāde
“Teici to stundu, to brīdi”	Emīls Dārziņš	


2. solis Klausoties atpazīsti divus skaņdarbu fragmentus un aizpildi tabulu.

Komponists	Žanrs	Skaņdarba (fragmenta) nosaukums	Kas atskaņo

6.uzdevums. Pieraksti melodiju!

 NOKLAUSIES un  RAKSTI	Pieraksti melodiju un izpildi papilduzdevumus.	Laiks: 12 minūtes Punktu skaits: 10
-------------------------------------------------------------------------------------------------------------------------------------------------------------------------------------------------	------------------------------------------------	----------------------------------------

Allegro V.A.Mocarts ✓



Paskaidro tempa apzīmējumu!	
Nosaki perioda uzbūvi (pasvītro atbilstoši)!	Kvadrātiska / nekvadrātiska

Kopā punkti: 3.LĪMENIS	
---------------------------	--

4. LĪMENIS: ŠO UZDEVUMU VARI PILDĪT BRĪDĪ, KAD VISUS IEPRIEKŠĒJOS UZDEVUMUS ESI IZPILDĪJIS.

7. uzdevums

👉 ATRODI NOTĪS	Aplūko doto mūzikas fragmentu un aizpildi tabulu!	Laiks: 13 minūtes Punktu skaits: 15 un vairāk
----------------	---------------------------------------------------	--------------------------------------------------

p Tempo di Valse

Komponists	
Tonalitāte	
Taktsmērs	
Melodiskā līnija	
Izpildītāju sastāvs oriģinālā	
Iztulko tempa apzīmējumu	
Raksturo skaņdarba žanru	
Nosaki apvilktos akordu otrajā taktī.	
Nosaki apvilktos intervālu trešajā taktī.	
Apvelc melodijā noturīgos intervālus (meklē arī starp taktīm) un paraksti apzīmējumus.	
Ko vēl Tu vari uzrakstīt par šo skaņdarbu?	

Kopā punkti: 4.LĪMENIS	
---------------------------	--

Kopā punkti par 1.LĪMENI	
Kopā punkti par 2.LĪMENI	
Kopā punkti par 3.LĪMENI	
Kopā punkti par 4.LĪMENI	
Kopējais punktu skaits:	

KOPVĒRTĒJUMS PUNKTOS:

Zems līmenis	Vidējs līmenis	Labs līmenis	Augsts līmenis
Līdz 22 punkti	no 23 līdz 45 punkti	No 46 līdz 68 punkti	No 69 līdz 89 punkti